

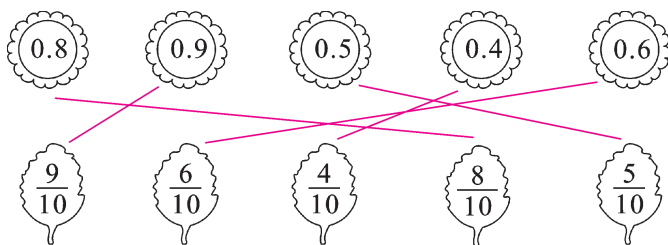
达标测试卷

题号	一	二	三	四	五	六	七	八	总分
得分									

一、填一填。(17分)

1. 三点七米写作(3.7)米,就是(3)米(7)分米。
2. 5元8角写成小数是(5.8)元,读作(五点八)元。
3. 9角是($\frac{9}{10}$)元,也可以写成(0.9)元;7分米是($\frac{7}{10}$)米,也可以写成(0.7)米。
4. 找规律,接着写下去。
0.1,0.4,0.7,1.0,(1.3),(1.6)。
8.5,7.5,6.5,5.5,(4.5),(3.5)。
5. 在0.2,0.3,1.4,0.8和0.9这五个数中,最大的数是(1.4)。
6. 0.9米表示把(1米)平均分成(10)份,取其中的(9)份。

二、找一找,连一连。(5分)



三、判断正误。(对的画“√”,错的画“×”)(5分)

1. 小数都比整数小。 (×)
2. 比0.2大,比0.5小的小数只有一个。 (×)
3. 0.6读作零点六,12.5读作十二点五。 (√)

4. 列竖式计算小数加、减法时,小数点要对齐。 (\checkmark)
5. 两个小数相减的差总是整数。 (\times)

四、在 \bigcirc 里填上“>”“<”或“=”。(6分)

0.6 米	$>$	0.3 米	1.8 米	$>$	0.9 米	13.9 元	$<$	19.3 元
0.2 元	$=$	2 角	5 分米	$>$	4.6 分米	7.1 米	$>$	1.7 米

五、计算乐园。(共14分)

1. 直接写出得数。(5分)

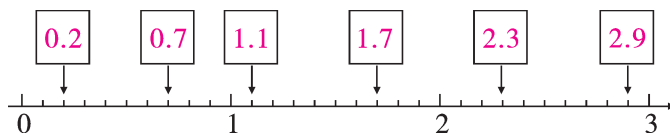
$0.5+0.3=0.8$ $0.8-0.6=0.2$ $0.9+0.1=1$ $0.9-0.6=0.3$ $1+0.7=1.7$
 $1.3+2.6=3.9$ $2.9+3=5.9$ $7.8-1.1=6.7$ $0.8+0.5=1.3$ $2.2+0.8=3$

2. 列竖式计算。(9分)

$0.9+0.7=1.6$	$1.9+0.8=2.7$	$6.1-2.2=3.9$
$\begin{array}{r} 0.9 \\ + 0.7 \\ \hline 1.6 \end{array}$	$\begin{array}{r} 1.9 \\ + 0.8 \\ \hline 2.7 \end{array}$	$\begin{array}{r} 6.1 \\ - 2.2 \\ \hline 3.9 \end{array}$

六、按要求做一做。(共13分)

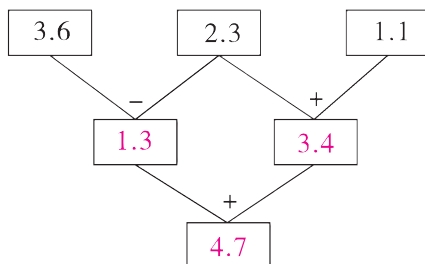
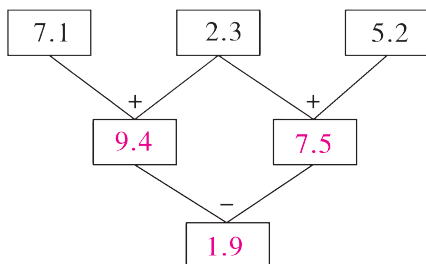
1. 在方框里填上适当的小数。(3分)



2. 用“元”做单位表示下面每件商品的价格。(4分)

8元8角	2元5角	8角	1元5角
8.8 元	2.5 元	0.8 元	1.5 元

3. 算一算,填一填。(6分)



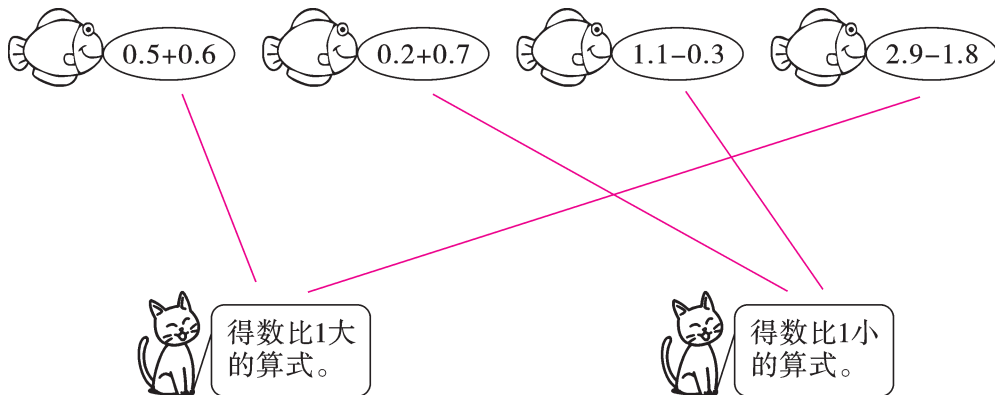
七、按要求完成下列各题。(12分)

1. 把下列各长度按从短到长的顺序排列起来。

0.6 米 1.8 米 9.2 分米 5.7 分米

【答案】5.7 分米 < 0.6 米 < 9.2 分米 < 1.8 米

2. 小猫钓鱼。(连一连)



3. 下面的计算对吗? 对的画“√”,错的画“×”并改正。

(1)
$$\begin{array}{r} 3.6 \\ + 51.8 \\ \hline 8.4 \end{array}$$
 改正:
$$\begin{array}{r} 3.6 \\ + 51.8 \\ \hline 9.4 \end{array}$$
 (×)

(2)
$$\begin{array}{r} 7.8 \\ - 3.9 \\ \hline 4.1 \end{array}$$
 改正:
$$\begin{array}{r} 7.8 \\ - 3.9 \\ \hline 3.9 \end{array}$$
 (×)

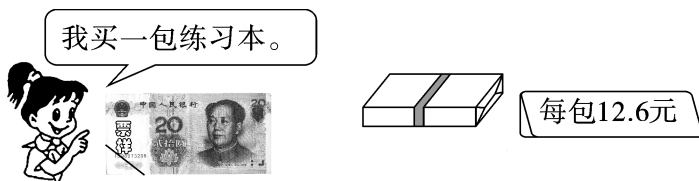
八、解决问题。(共 28 分)

1. 一盒彩笔售价 6.5 元,冰冰买了一盒彩笔后还剩下 3.5 元。冰冰原来带了多少元?(5分)

【答案】6.5+3.5=10(元)

答:冰冰原来带了 10 元。

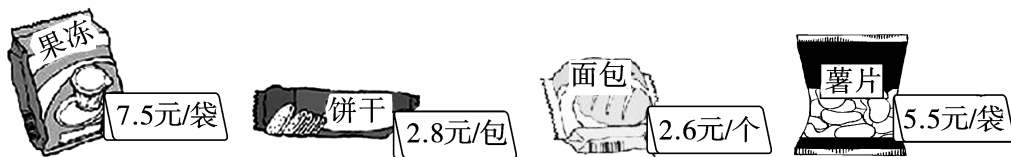
2. 售货员应找回多少钱? (5 分)



【答案】 $20-12.6=7.4$ (元)

答:售货员应找回 7.4 元。

3. 买一包饼干和一个面包一共需要多少元? 小明有 10 元,可以买哪两种食物? (请写出两种方案,并计算花了多少钱)(6 分)



【答案】 $2.8+2.6=5.4$ (元)

饼干和薯片: $2.8+5.5=8.3$ (元)

薯片和面包: $5.5+2.6=8.1$ (元)

(第二问答案不唯一)

答:买一包饼干和一个面包一共需要 5.4 元。小明有 10 元,可以买饼干和薯片,一共花了 8.3 元;也可以买薯片和面包,一共花了 8.1 元。

4. 一桶油,连桶重 8.6 千克,用去一半后连桶重 4.7 千克。桶重多少千克? (6 分)

【答案】 $8.6-4.7=3.9$ (千克)

$3.9+3.9=7.8$ (千克)

$8.6-7.8=0.8$ (千克)

答:桶重 0.8 千克。

5. (思维拓展题)小红在做一道加法题时,把一个小数个位上的 3 错看成了 8,把十分位上的 9 错看成了 6,结果算得的和是 11.5。你能求出这道题的正确答案吗? (6 分)

【答案】 $8-3=5$

$0.9-0.6=0.3$

$11.5-5=6.5$

$6.5+0.3=6.8$

答:这道题的正确答案是 6.8。